

1. Perché ci sono tombe di guerra in questa parte d'Italia?

Durante la Seconda guerra mondiale, il 3 settembre 1943 gli Alleati invasero la penisola italiana, a seguito dell'armistizio stipulato con gli Italiani, che rientrarono in guerra al fianco degli Alleati. Dopo la liberazione di Roma ad opera degli Alleati nel giugno 1944, la ritirata tedesca venne riorganizzata su fronti successivi lungo una serie di linee difensive. Nell'Appennino settentrionale l'ultima di queste, la Linea Gotica, fu sfondata dagli Alleati durante la campagna d'autunno. Nell'autunno del 1944 ci furono aspri combattimenti nei pressi di Rimini e il fronte avanzò fino a Ravenna nel settore Adriatico, ma a seguito del trasferimento di varie divisioni alleate per sostenere la nuova offensiva in Francia e del fatto che i tedeschi si trincerarono in una serie di posizioni difensive chiave, con l'arrivo dell'inverno l'avanzata si arrestò. I cimiteri di guerra furono realizzati in quei mesi, per dare sepoltura ai caduti nei combattimenti di quella fase di parziale stallo precedente alla ripresa dell'avanzata alleata nell'aprile 1945.

2. Dove sono le tombe di guerra in questa parte d'Italia?

Ci sono tombe e memoriali della CWGC in tre località di questa parte d'Italia. Guarda la mappa qui sotto per scoprire dove si trovano.

3. Scopri da dove provenivano queste persone

Usa le bandiere per scoprire da dove provenivano o di dove erano originari coloro che sono sepolti e ricordati in questa parte d'Italia

Rimini Gurkha War Cemetery

618 tombe

Da: India, Nepal



Rimini Cremation Memorial

771 nomi

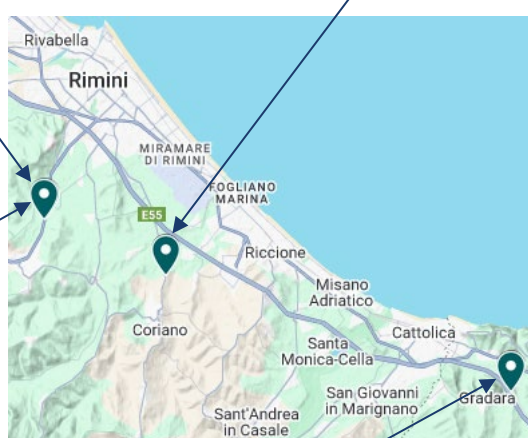
Da: India, Nepal



Coriano Ridge War Cemetery

1.940 tombe

Da: Canada, Irlanda, Messico, Nuova Zelanda, Regno Unito, Sudafrica, Terranova, Unione Sovietica



Gradara War Cemetery

1.192 tombe

Da: Australia, Belgio, Canada, Irlanda, Nuova Zelanda, Regno Unito, Sudafrica, Terranova, Zimbabwe



4. Scopri di più sul servizio nelle forze armate dei caduti del Cimitero di Guerra di Coriano Ridge

4.1 Ogni lapide nel cimitero racconta una storia diversa. Mentre esplori il cimitero, vedi cosa puoi imparare dalle lapidi. Vedi se riesci a trovare le risposte a queste domande:

1. Chi è il **soldato più giovane** che riesci a trovare?
2. Chi è il **soldato più anziano** che riesci a trovare?
3. Da quanti **paesi diversi provenivano**, in base alle informazioni che puoi scoprire sulle lapidi?

4.3 Mentre esplori il cimitero, guarda i diversi distintivi sulle lapidi. Questi ti daranno un indizio sul ruolo che il soldato aveva nell'esercito e talvolta sulla sua provenienza. Man mano che trovi ogni distintivo, **scrivi nella casella accanto ad esso il nome del soldato** che ha prestato servizio con quell'unità.




4.2 C'è solo una lapide che ha questo distintivo. È dell'Army Air Corps. La trovi nel **plotone 17**. Chi lo indossava?



I soldati delle unità sudafricane hanno prestato servizio in Africa e in Europa durante la Seconda guerra mondiale. Riesci a trovarne uno nel **plotone 2**?




Molti reggimenti di fanteria dell'esercito britannico prendevano il nome dalle zone di provenienza di gran parte dei soldati. Riesci a trovare questo distintivo nel **plotone 4**?



Quasi un milione di persone prestarono servizio nella Royal Air Force. Più di 124.000 morirono in servizio. Riesci a trovare l'equipaggio della RAF nel **plotone 6**?



L'African Pioneer Corps svolgeva ogni tipo di compito, dalla costruzione di strade alla bonifica di campi minati. Riesci a trovare il soldato dell'Africa orientale nel **plotone 3**?



Oltre 1,6 milioni di soldati canadesi combatterono in tutto il mondo nelle guerre mondiali. Più di 110.000 morirono in servizio.



Oltre 200.000 soldati neozelandesi, compresi i nativi Maori, lasciarono la Nuova Zelanda per prestare servizio all'estero durante le guerre mondiali. Più di 30.000 morirono.