

1. Pourquoi y a-t-il des cimetières militaires et des monuments commémoratifs dans la Somme ?

Pendant la Première Guerre mondiale, de nombreux combats ont eu lieu dans cette région. Des combats s'y sont déroulés tout au long de la période 1914-1917, puis à nouveau en 1918. L'armée britannique est arrivée sur la Somme en 1915, prenant le relais de l'armée française dans ce secteur. C'est ici que s'est déroulée la bataille de la Somme entre juillet et novembre 1916. Les cimetières et les monuments commémoratifs de la région témoignent de ces combats : les petits cimetières créés pendant la guerre des tranchées, où les soldats enterraient leurs camarades, ou les grands cimetières construits après la guerre pour accueillir les soldats tombés au combat. Les monuments commémoratifs érigés ici rendent hommage aux « disparus », ceux qui n'ont pas de tombe connue.

2. Où se trouvent les cimetières militaires et les monuments commémoratifs dans cette région ?

Il y a des tombes de guerre, des cimetières militaires et monuments à de nombreux endroits dans cette région de France. Consultez la carte ci-dessous pour voir où se trouvent certains d'entre eux.

3. Découvrez d'où venaient ces personnes

Observez les drapeaux ci-dessous pour découvrir l'origine de certaines des personnes enterrées et commémorées près d'ici

Hawthorn Ridge Cemetery No.2

214 tombes de guerre
Origine: États-Unis, Irlande, Nouvelle-Zélande, Royaume-Uni, Sri Lanka, Terre-Neuve



Serre Road Cemetery No.2

7,138 tombes de guerre
Origines : Afrique du Sud, Allemagne, Australie, Canada, États-Unis, Irlande, Nouvelle-Zélande, Royaume-Uni, Terre-Neuve



Ancre British Cemetery

2,543 tombes de guerre
Origines : Allemagne, Brésil, États-Unis, Irlande, Nouvelle-Zélande, Royaume-Uni, Terre-Neuve



Hunter's Cemetery

46 tombes de guerre
Origine: Royaume-Uni



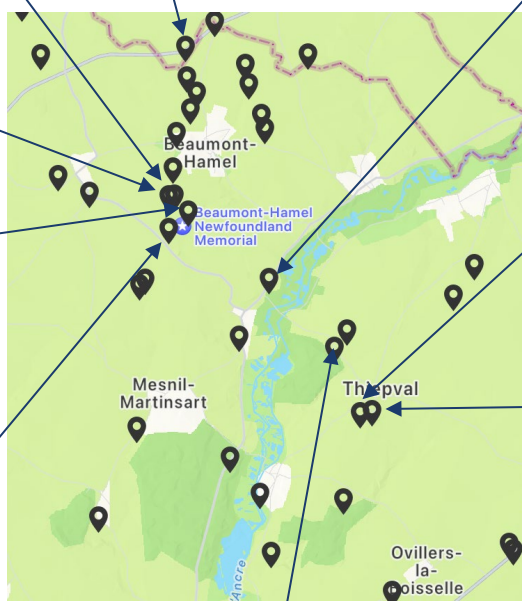
Y Ravine Cemetery

428 tombes de guerre
Origine: États-Unis, Irlande, Royaume-Uni, Terre-Neuve




Mémorial de Beaumont-Hamel (Terre-Neuve)

810 noms
Origine: Afrique du Sud, Canada, Chili, États-Unis, Portugal, Royaume-Uni, Russie, Terre-Neuve



Thiepval Anglo-French Cemetery

600 tombes de guerre
Originaires de : Australie, France, Irlande, Nouvelle-Zélande, Royaume-Uni



Mémorial de Thiepval

72,150 individus commémorés
Origines : Afrique du Sud, Argentine, Australie, Belgique, Canada, États-Unis, Irlande, Nouvelle-Zélande, Royaume-Uni, Sri Lanka, Zimbabwe



Connaught Cemetery

413 tombes de guerre
Origine : Irlande, Royaume-Uni



4. Découvrez le rôle des individus enterrés à Y Ravine Cemetery

4.1 Chaque pierre tombale du cimetière raconte une histoire différente. En explorant le cimetière, notez ci-dessous ce que vous pouvez apprendre en lisant les inscriptions sur les pierres tombales. Pouvez-vous découvrir les éléments suivants :

1. Quelle est la personne **la plus jeune** que vous puissiez trouver ?
2. Qui est la personne **la plus âgée** que vous puissiez trouver ?
3. D'après les informations que vous pouvez lire sur les pierres tombales, de combien de **pays différents** sont-ils originaires ?


4.3 En explorant le cimetière, regardez les informations figurant sur les pierres tombales. Chacune d'entre elles vous racontera l'histoire de cette personne. Lorsque vous trouverez la tombe des personnes ci-dessous, inscrivez le **grade de** la personne, son **unité** et la **date de sa mort** dans la case située à côté de la photo. Vous pouvez également noter toute autre information intéressante.



4.2 Edward Ayre est enterré dans la row A. Quel était son grade, son régiment et à quelle date a-t-il été tué ?



En 1914, Terre-Neuve était une colonie britannique. Plus de 3 000 Terre-Neuviens ont combattu à Gallipoli et sur le front occidental. Beaucoup sont morts ici le 1er juillet 1916.



Les South Wales Borderers ont également attaqué sur ce champ de bataille le 1er juillet 1916. Trouvez-en un et notez son nom, son grade et son âge.



La prochaine attaque majeure eut lieu en novembre 1916. L'insigne représente les Gordon Highlanders, un régiment écossais. Trouvez-en un et notez son nom, son grade et son âge.



La Royal Naval Division a également combattu ici en novembre 1916. Trouvez un marin et notez son nom, son grade et son âge.



Le Machine Gun Corps a été formé en 1915 en raison de l'utilisation croissante de la mitrailleuse sur le front occidental.



Le Black Watch était un célèbre régiment écossais. Trouvez une tombe portant cet insigne et notez son nom, son grade et son âge.

Pour en savoir plus, rendez-vous sur cwgc.org/stories